

Řešení Velkého finále

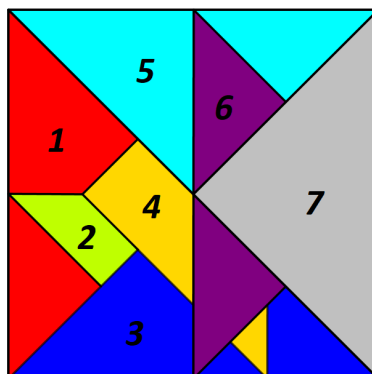
2.1 Včelí cesta

Úloha má jedno řešení.




2.2 Trojúhelníky

Úloha má jedno řešení.



2.3 Triomino

Úloha má více řešení. Například:



2.4 Následovník

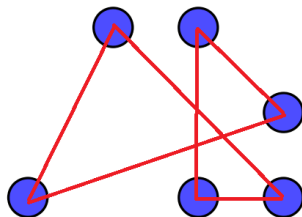
Zelený obrazec se otáčí po směru hodinových ručiček, čísla naopak. Číslo uprostřed je součtem tří čísel umístěných v červených buňkách v řešení. Případné nejasnosti směřujte na Pupu.

4		5		6
3		15		7
2		1		8

2.5 Dvoupísmenná

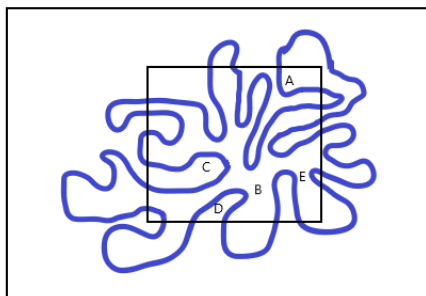
Úloha má více řešení. Například o, op, po, pop.

2.6 Spojovačka



2.7 Jordanova úloha

Je více možností, jak může křivka vypadat, ale písmena jsou vždy stejná - A, B, E.



2.8 Písmenková řada

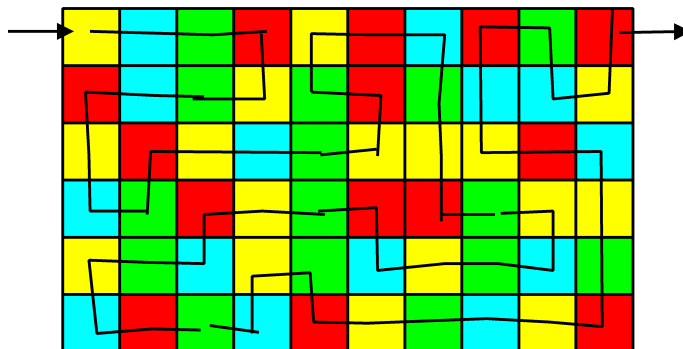
Úloha má jedno řešení.

Doplňte Správná Písmenka Na Místo Dvou Otazníků, tj. D, O.



3.1 Barevná dráha

Úloha má jedno řešení.



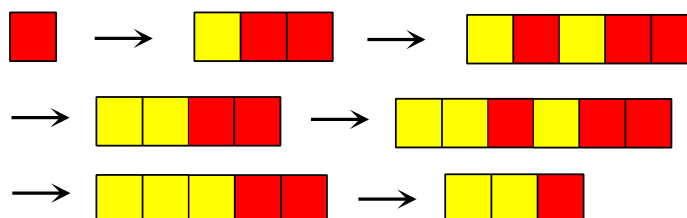
3.2 Písmena

Úloha má jedno řešení.

C	H	C	E	T	E	-	L	I		V	Y	Ř	E	Š	I	T		
T	U	T	O		Ú	L	O	H	U		A		Z	Í	S	K	A	T
B	O	D	Y	,		O	D	P	O	V	Ě	Z	T	E				
	B	R	L	O	H		J	E		N	E	J	L	E	P	Š	Í	.

3.3 Přepisovací

Úloha má více řešení.



3.4 Möbiova

Je potřeba to kontrolovat, nejstnosti směřovat na Pupu.

3.5 Železniční problém

Více řešení. Nejmenší možný počet tahů je 23.



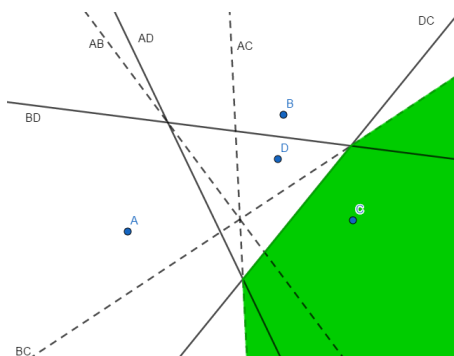
3.6 Výběrová

Úloha má jedno řešení.

7	1	5	4	5	3	1
1	2	1	1	4	6	7
3	1	5	7	1	5	3
7	2	2	4	3	3	4
1	1	3	3	4	3	4
5	6	1	5	6	1	1
2	3	5	1	2	2	6

3.7 Přežití v poušti

Úloha má jedno řešení. Přímký jsou osy úseček.



3.8 Známa

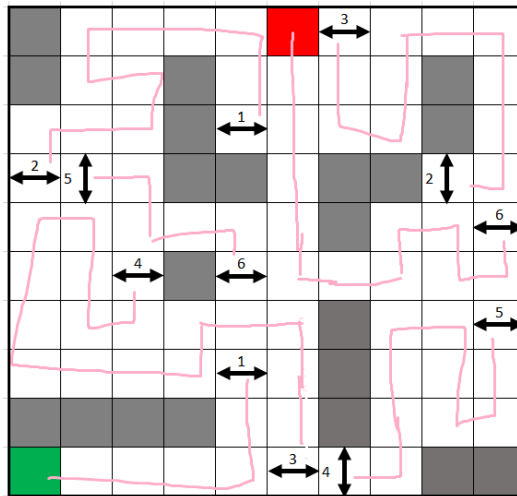
Úloha má jedno řešení.

$$578 : 17 = 34$$

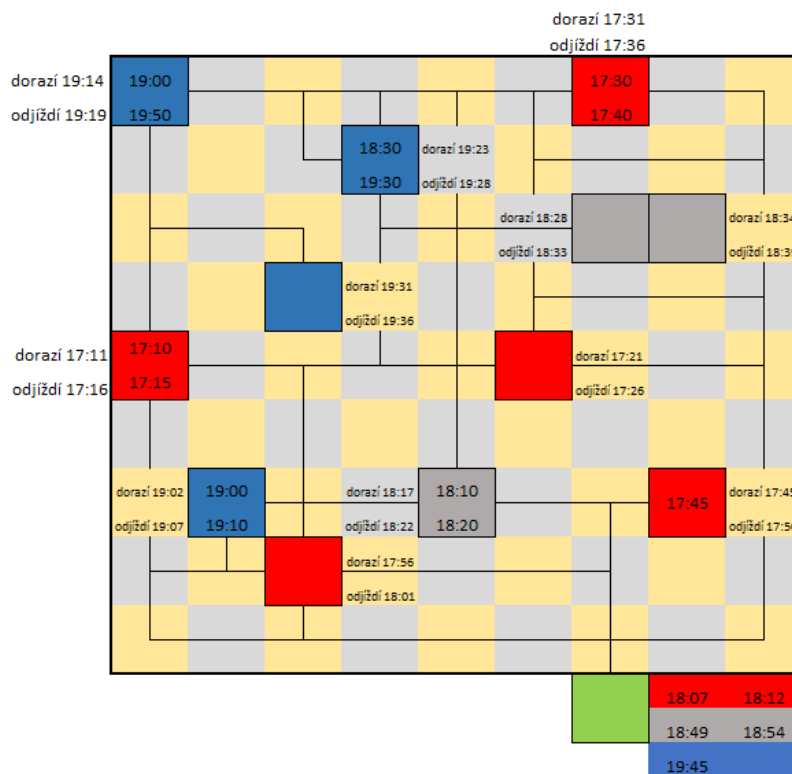


4.1 Teleporty

Úloha má jedno řešení.

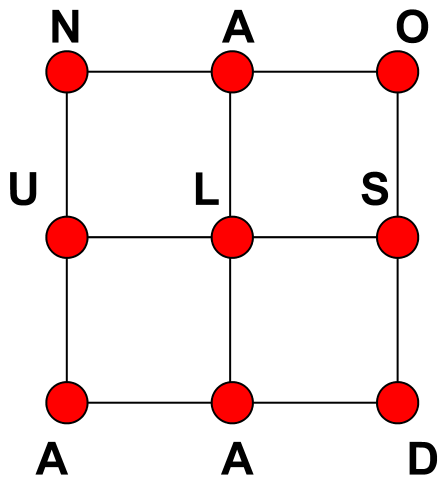


4.2 Vyzvedávání dárků

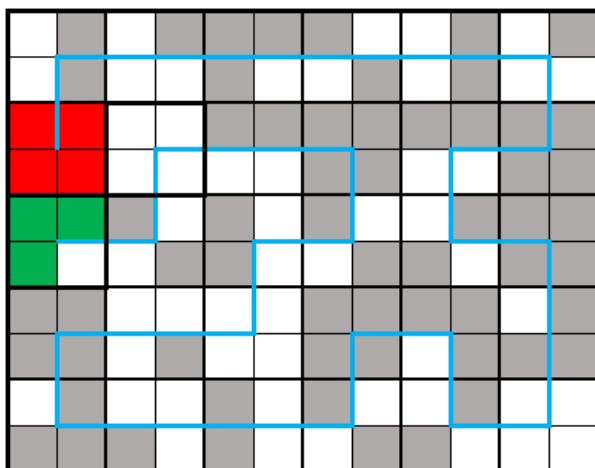


4.3 Čtvercově slovní

Úloha má více řešení. Potřeba zkontrolovat všech 5 čtverců.



4.4 Krychle



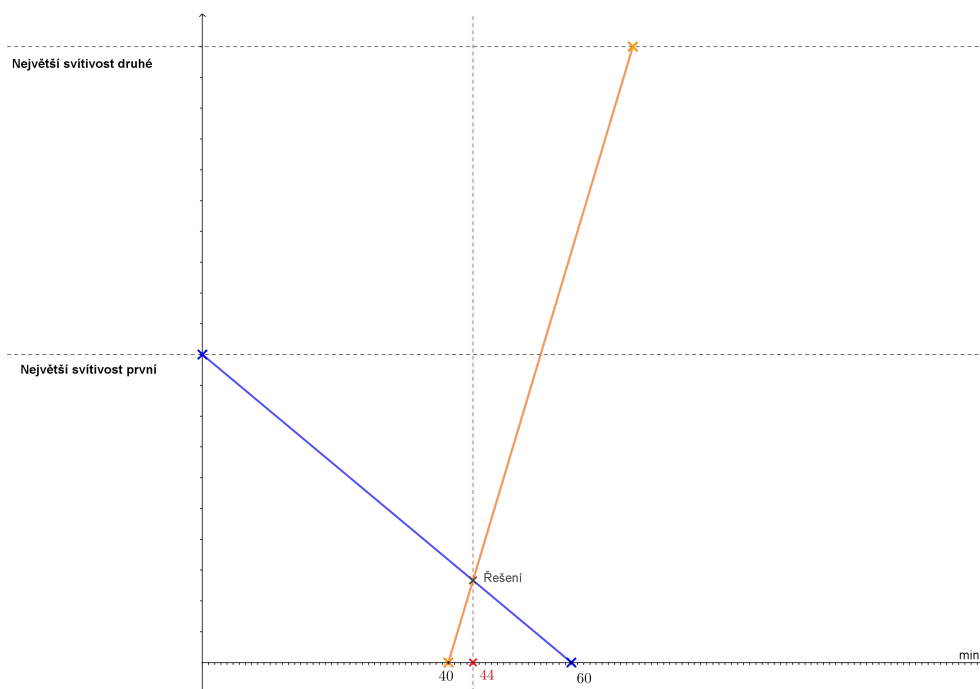
4.5 Jedenáctipísmenná

Úloha má více řešení. Například trvanlivost, tematičnost, tendenčnost, telefonovat.



4.6 Zářící

Úloha má jedno řešení, odpověď je po 44 minutách.



4.7 Permutační

Úloha má více řešení. Například Ženu holí stroj.

4.8 Nadnášející

Úloha má jedno řešení. Odpověď je, že objem se nezmění.